




	<p>مهمترین حق انسان ها کدام است؟</p> <p>الف. حق داشتن غذا، لباس، مسکن ب. حق تحصیل ج. حق داشتن امنیت د. حق حیات یا زندگی</p> <p>به وظایفی که هریک از ما بر عهده داریم و انتظار می رود آن ها را انجام دهیم.....می گویند.</p> <p>الف. حقوق متقابل ب. حقوق طبیعی ج. مسئولیت د. حق</p> <p>کدام یک از حقوق مصرف کننده نیست؟</p> <p>الف. قوانین و مقررات ب. استاندارد ج. برچسب مشخصات کالا د. استفاده از کارت خرید اعتباری</p> <p>هیچکس نباید با کفش وارد نمازخانه و مسجد شود، این عبارت مربوط به کدام گزینه است؟</p> <p>الف. قرارداد اجتماعی ب. دستور مذهبی ج. قانون د. شعار سیاسی</p>
۸	<p>جمع بارم صفحه ۱ صفحه ۲: ۲</p>
۲	<p>پ هر یک از علامتهای زیر نماد چه چیزی هستند؟ زیر تصویر بنویسید.</p> <div style="display: flex; justify-content: space-around; align-items: center;"> <div style="text-align: center;">  </div> <div style="text-align: center;">  </div> <div style="text-align: center;">  </div> </div> <p style="text-align: right;">نمره: _____</p>
۲/۵	<p>ج نمودار زیر را کامل نمایید.</p> <div style="text-align: center;"> <p>دلایل به وجود آمدن قانون و مقررات</p> <pre> graph TD A[دلایل به وجود آمدن قانون و مقررات] --> B[] A --> C[] </pre> </div>